

ИСЗ по математике


Год: 2020 Кол-во стр: 2

ФИО участника	
Населенный пункт	
Школа	
Класс	3 класс

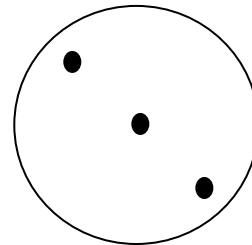
Задание №1

Ты сложил круглый листок бумаги и проткнул там дырку. Потом ты развернул листок и увидел то, что изображено на рисунке. Покажи пунктиром, как могли выглядеть линии сгиба на каждом из рисунков А и Б. Перерисуй рисунки.

А)



Б)

**Задание №2**

Найди в тексте «спрятанные» все математические термины (слова, которые обозначают числа, знаки действий и геометрические фигуры). Можно сливать (объединять) буквы, слоги, но нельзя их переставлять. Запятые и точки можно не учитывать, прописные и заглавные буквы. Например: чистота – сто, **о** Валентине – овал.

Выпиши эти слова.

На дачу к семье Наковальчиковых в гости приехали друзья из столицы Франции: Филипп, Люсьена и сестрички Кругловы. Земля плодородна и просторна. С куста смородины собрали урожай и положили в подвал. Около стога сена важно прохаживалась сорока. Опять в небе появились ласточки.

Задание №3

Сколько троек содержится в числах от 1 до 113? Напиши количество троек.


Запиши все эти числа.

Задание №4

Для изготовления тортов кондитер купил 24 штуки фруктов: апельсины, лаймы, манго. Лаймов и апельсинов было 18 штук, а апельсинов и манго – 13 штук. Сколько фруктов каждого вида купил кондитер? Напиши или нарисуй решение задачи.

Задание №5

Квадрат состоит из 16 одинаковых клеток. Четыре клетки раскрашены красным, жёлтым, зелёным и синим цветом. Перерисуй чертеж и раскрась этими же цветами остальные клетки так, чтобы в каждом горизонтальном и вертикальном ряду и по диагонали были клетки разных цветов.

**Задание №6**

Расшифруй комбинацию кодового замка.

- А) В сумме все цифры дают 22.
- Б) Вторая цифра на два больше, четвёртой.
- В) Третья цифра на два больше, чем первая.
- Г) Вторая цифра 6.
- Д) Пятая цифра в 2 раза больше четвертой.

Цифры не повторяются

Задание №7

Для строительства бани закупили 24 бревна двух видов по 30 дм и 50 дм общей протяженностью 98 м. По сколько штук бревен каждого вида было закуплено? Запиши решение.